

Appuyer sur la touche F5  
pour passer en mode plein écran

# Stéphane, un migrant camerounais au Maroc



Source : <http://www.la-croix.com/>

Stéphane, un Camerounais de 23 ans, essaie d'entrer en Europe depuis le Maroc depuis trois ans.

Réaliser une tâche complexe :

## **Objectif de la séance :**

**Cartographier le parcours migratoire  
de Stéphane dans un croquis**

Vous devrez :

- choisir les informations de la légende
  - choisir les figurés
- nommer et localiser les lieux importants
  - réaliser la légende et le croquis
  - donner un titre

# Documents d'appui

- Lecture audio d'un article paru dans le journal *La Croix* le 13 mai 2014. La journaliste Marie Verdier raconte le parcours migratoire de Stéphane, un jeune camerounais qu'elle a rencontré à Tanger, au Nord du Maroc.
- Une carte de synthèse *Le Maroc, entre Afrique Subsaharienne et Europe.*
- Quelques indicateurs de développement
- Une photographie de la frontière entre le Maroc et l'Espagne à Ceuta.
- Une carte localisant les pays d'Afrique


Lecture audio d'un article paru dans  
le journal *La Croix* le 13 mai 2014


# Le Maroc, entre Afrique subsaharienne et Europe


L'espace Schengen rassemble 26 pays euro



## 1. L'Europe

 Limites de l'espace Schengen (contrôles renforcés aux frontières)

 Territoires espagnols dont les frontières avec le Maroc sont militarisées


 Frontière renforcée à la demande de l'UE

0 500 km

## 2. L'Afrique


Part de la population vivant avec moins de 2 dollars par jour

 Plus de 30 %

 De 5 à 30 %

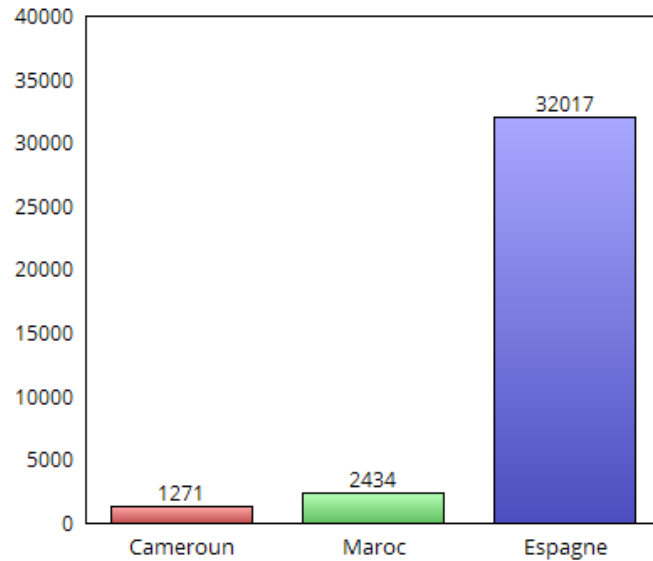
 Passage traditionnel en cours d'abandon

 Nouveaux passages

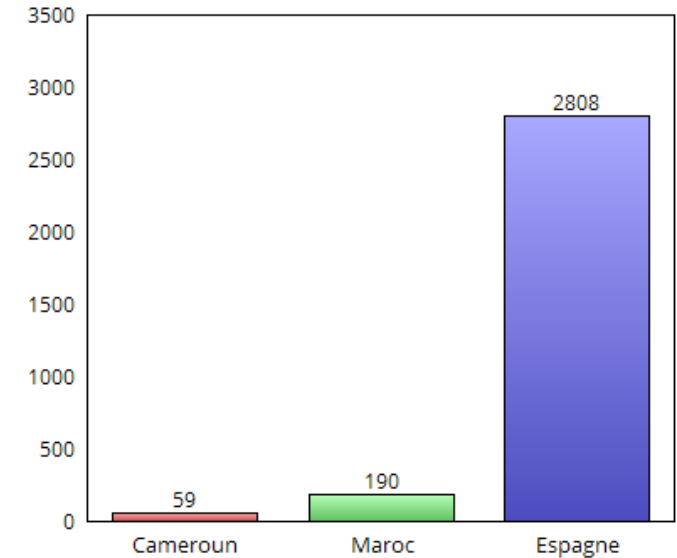
 Expulsions de clandestins subsahariens par les autorités marocaines

# Quelques indicateurs de développement

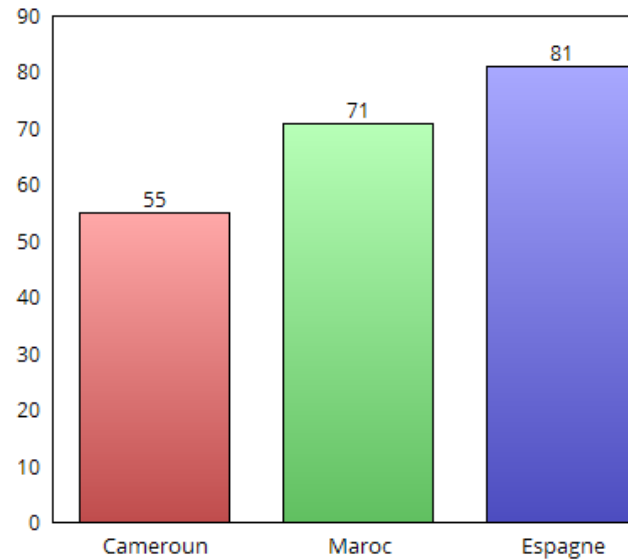
Le PIB /habitant  
(en dollars)



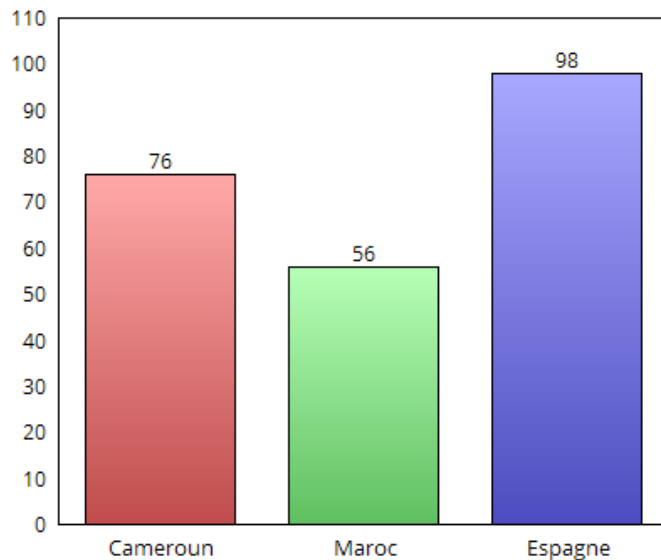
Dépenses publiques de santé  
(par hab. et en dollars)



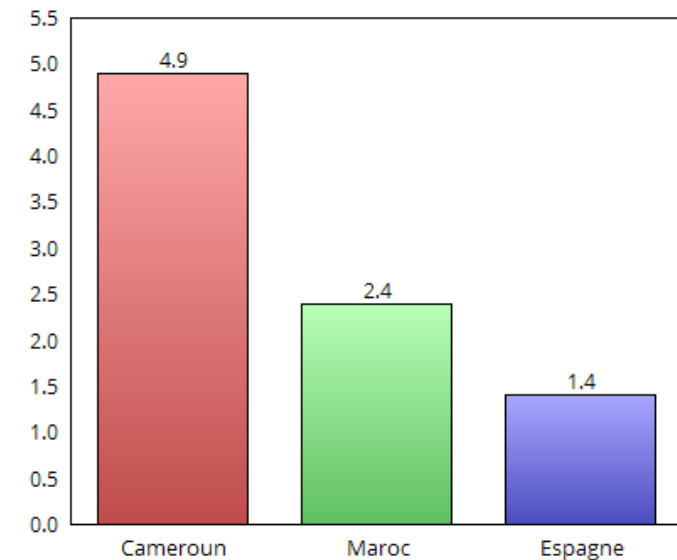
Espérance de vie à la naissance  
(en années)



Taux d'alphabétisation  
(en %)




Taux de fécondité  
(nombre d'enfants par femme)



Source :  
*Manuel 4e*, Belin, 2011  
Différents sites d'agences onusiennes

# Patrouilles espagnoles et marocaines à la frontière de Ceuta, au nord du Maroc



B



# Les pays d'Afrique en 2015

